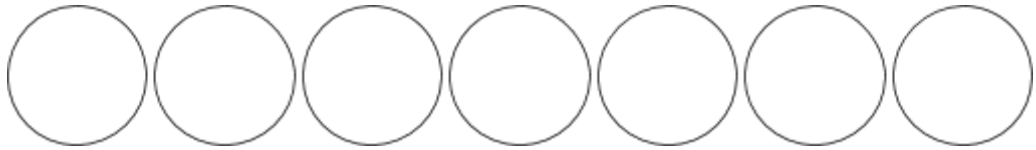


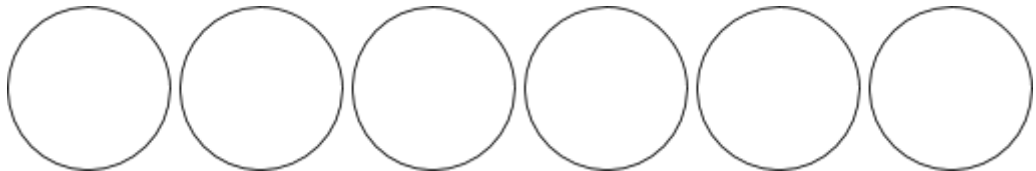


## שברים בסיסיים - חלק 2:

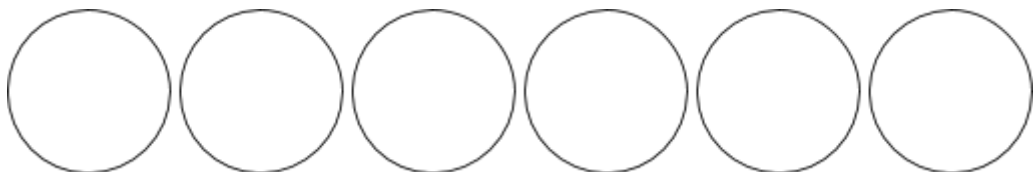
צבעו  $\frac{3}{7}$  מהעגולים הבאים:



צבעו  $\frac{2}{6}$  מהעגולים הבאים:



צבעו  $\frac{1}{2}$  מהעגולים הבאים:




צבעו  $\frac{1}{3}$  מהעגולים הבאים:





הקיפו בעגול  $\frac{2}{6}$  מהפרצופים הבאים:



הקיפו בעגול  $\frac{2}{3}$  מהפרצופים הבאים:

