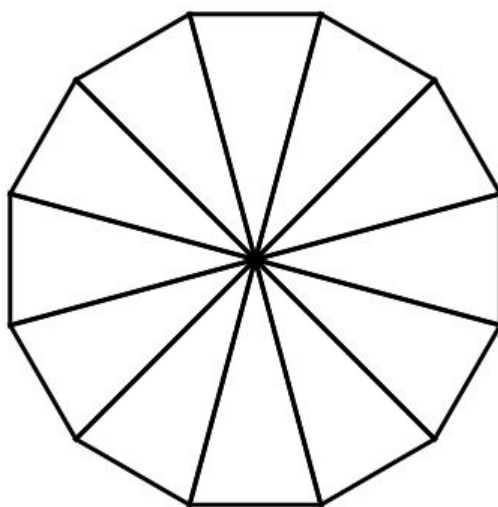


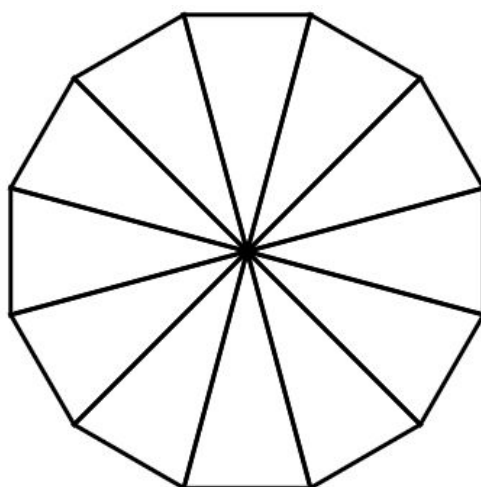


שברים בסיסיים - חלק 3

צבעו רבע $\frac{1}{4}$ מחלקיו של המצלע הבא:

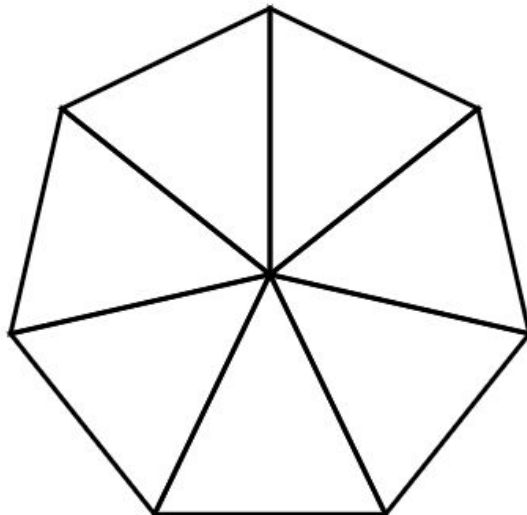


צבעו שליש $\frac{1}{3}$ מחלקיו של המצלע הבא:



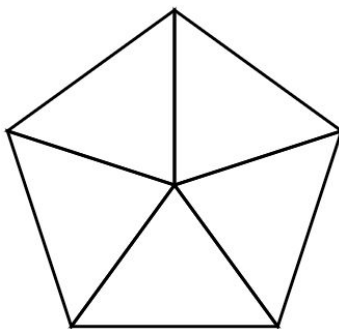


איזה שבר מציג כל חלק במצלע הבא?



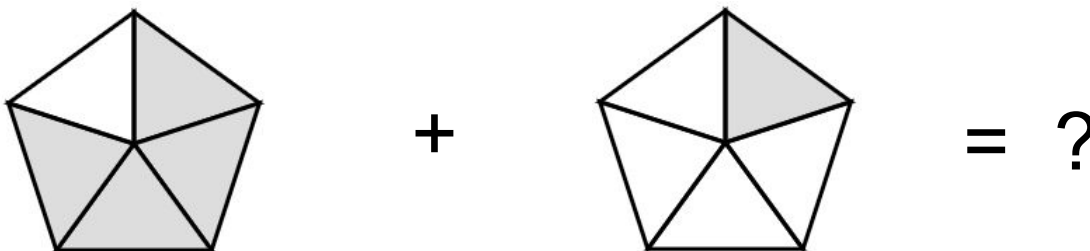
איזה שבר נקבל אחרי שנצבע 2 חלקים במצלע?

צבעו $\frac{2}{5}$ מהמצולע הבא

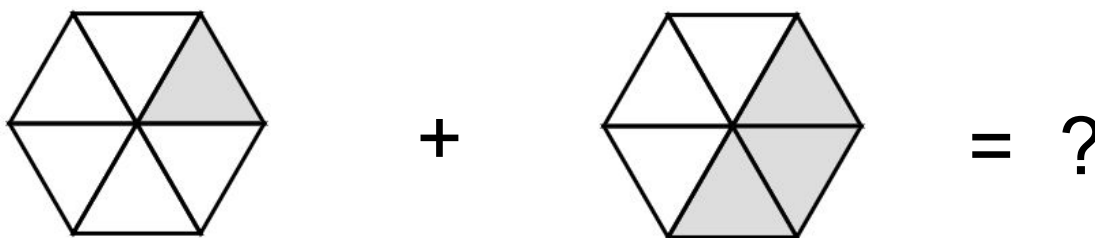




איזה תרגיל מתאר למטה?
האם תוצאתו קטנה מ-1?

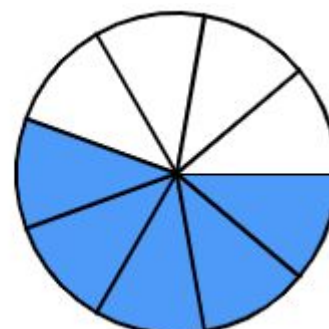
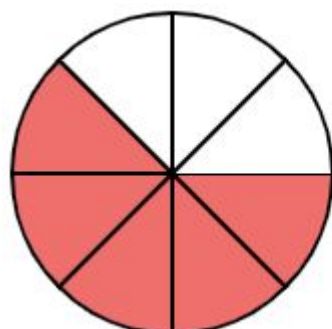
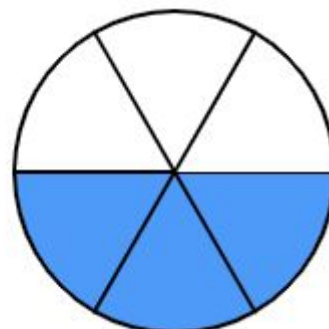
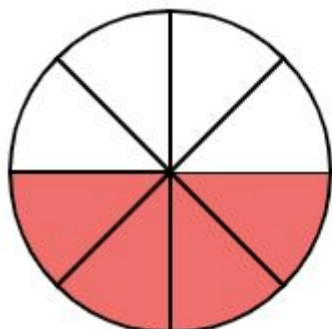
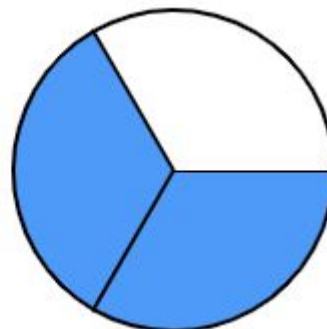
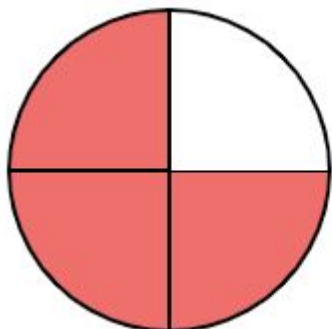


איזה תרגיל מתאר למטה?
האם תוצאתו קטנה מ-1?





1. כתב את השבר המתאר כל מעגל
2. איזה שבר גדול יותר/קטן יותר/שווה





1. כתב את השברים בכל מעגל
2. איזה שבר גדול יותר/קטן יותר/שווה

