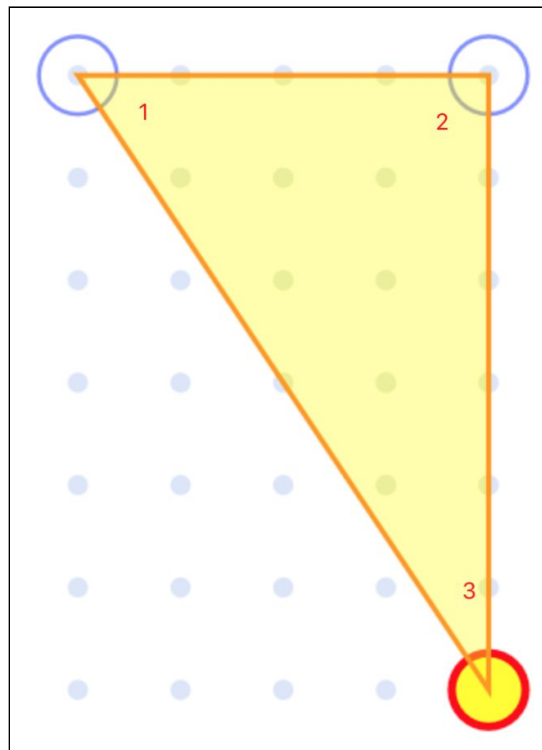


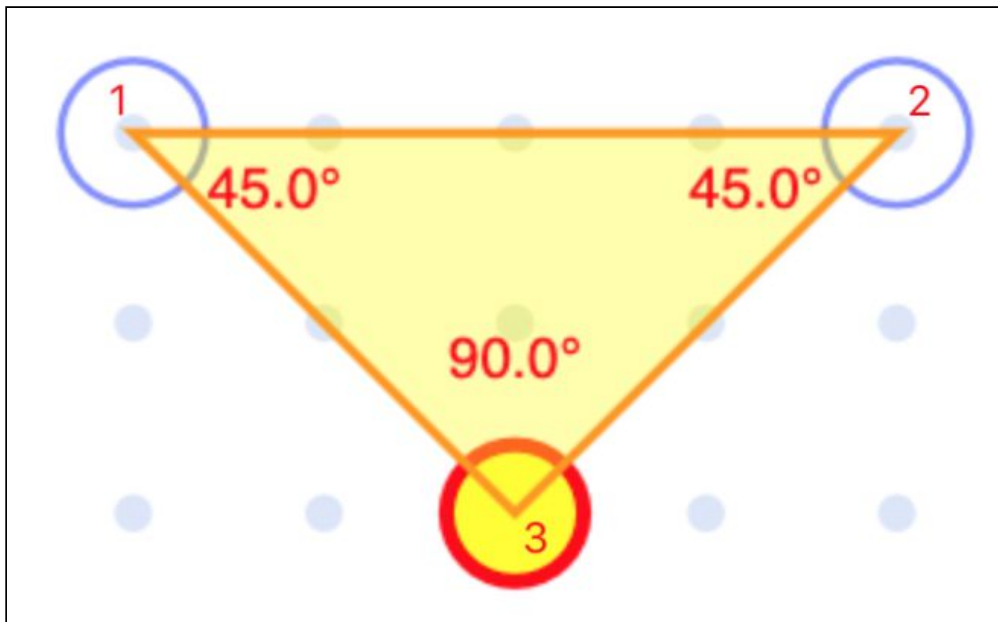


## משולשים וזוויות:

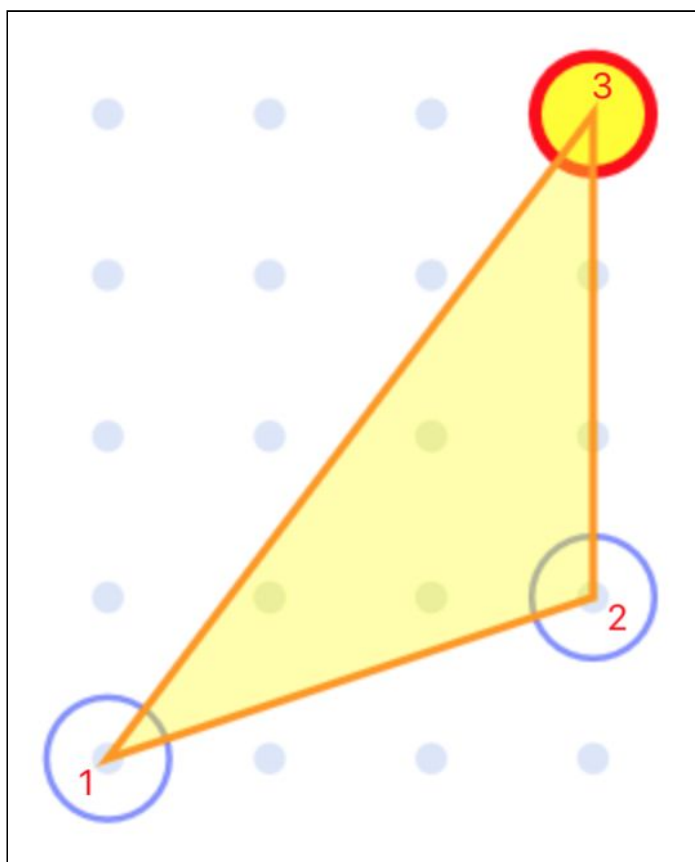
ענו על השאלות הבאות



- (1) מה סוג המשולש? \_\_\_\_\_
- (2) מה סוג זווית 1 (חדה, ישרה, קהה או שטוחה)? \_\_\_\_\_
- (3) מה סוג זווית 2 (חדה, ישרה, קהה או שטוחה)? \_\_\_\_\_
- (4) מה סוג זווית 3 (חדה, ישרה, קהה או שטוחה)? \_\_\_\_\_
- (5) מה סכום הזוויות 1+3? \_\_\_\_\_
- (6) איזו זווית במשולש היא זווית ישרה? הסבירו מדוע? \_\_\_\_\_



- 1) מה סוג המשולש? \_\_\_\_\_
- 2) מה סוג זווית 1 (חדה, ישרה, קהה או שטוחה)? \_\_\_\_\_
- 3) מה סוג זווית 2 (חדה, ישרה, קהה או שטוחה)? \_\_\_\_\_
- 4) מה סוג זווית 3 (חדה, ישרה, קהה או שטוחה)? \_\_\_\_\_
- 5) מה סכום הזוויות 1+3? \_\_\_\_\_
- 6) איזו זווית במשולש היא זווית ישרה? הסבירו מדוע? \_\_\_\_\_



- 1) מה סוג המשולש? \_\_\_\_\_
- 2) מה סוג זווית 1 (חדה, ישרה, קהה או שטוחה)? \_\_\_\_\_
- 3) מה סוג זווית 2 (חדה, ישרה, קהה או שטוחה)? \_\_\_\_\_
- 4) מה סוג זווית 3 (חדה, ישרה, קהה או שטוחה)? \_\_\_\_\_
- 5) **בונוס** : האם סכום הזוויות 1 ו 3 גדול מ 90 מעלות? מדוע?  
\_\_\_\_\_
- 6) **בונוס** : האם סכום הזוויות 2 ו 3 גדול מ 90 מעלות? מדוע?  
\_\_\_\_\_
- 7) איזו זווית במשולש היא זווית קהה? הסבירו מדוע? \_\_\_\_\_