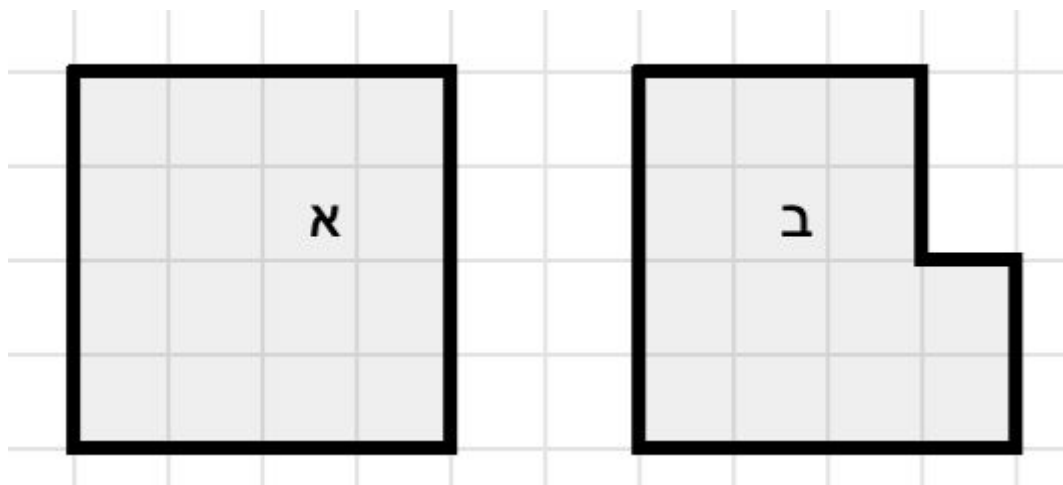


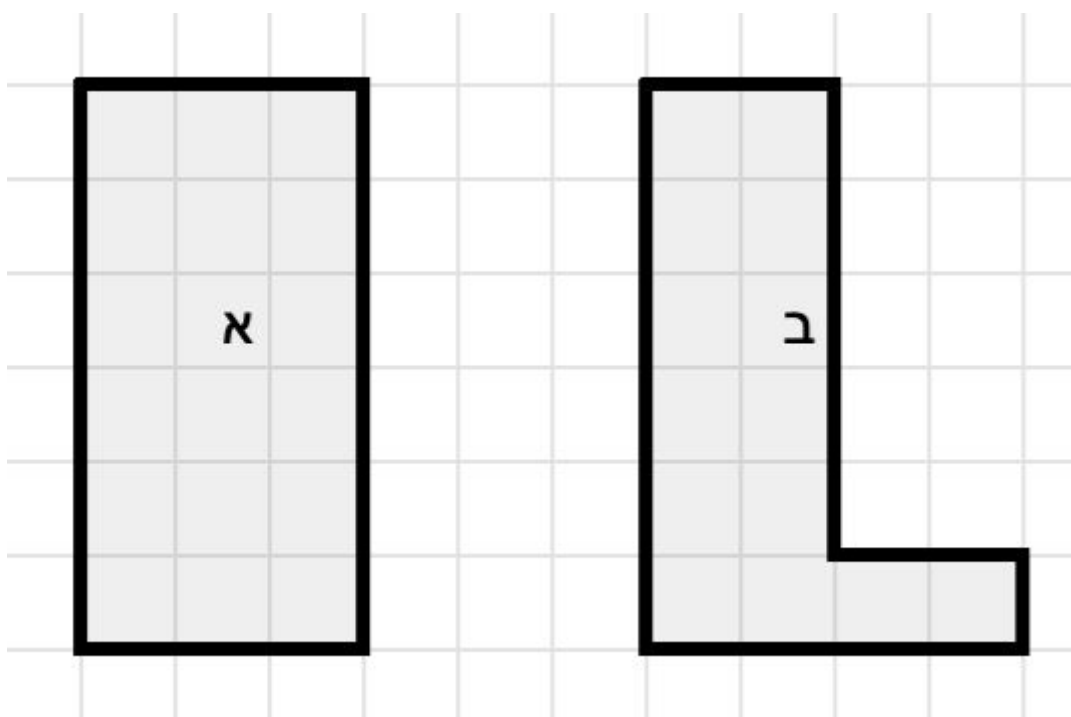


## גיאומטריה - שטח והיקף :

נתונים שני המצולעים הבאים:



- 1) האם לאחד המצולעים שטח גדול יותר? \_\_\_\_\_
- בהנחה ששטחה של כל משבצת היא 1 סמ"ר
- 2) מה שטחו של מצולע א'? \_\_\_\_\_
- 3) מה שטחו של מצולע ב'? \_\_\_\_\_
- 4) למי מהמצולעים יש יותר צלעות? \_\_\_\_\_
- 5) מה היקפו של מצולע א'? \_\_\_\_\_
- 6) מה היקפו של מצולע ב'? \_\_\_\_\_
- 7) למי מהמצולעים יש יותר קודקודים? \_\_\_\_\_
- 8) סמנו בכל אחד מהמצולעים שתי זוגות של צלעות מקבילות



1) האם לאחד המצולעים שטח גדול יותר? \_\_\_\_\_

בהנחה ששטחה של כל משבצת היא 1 סמ"ר

2) מה שטחו של מצולע א'? \_\_\_\_\_

3) מה שטחו של מצולע ב'? \_\_\_\_\_

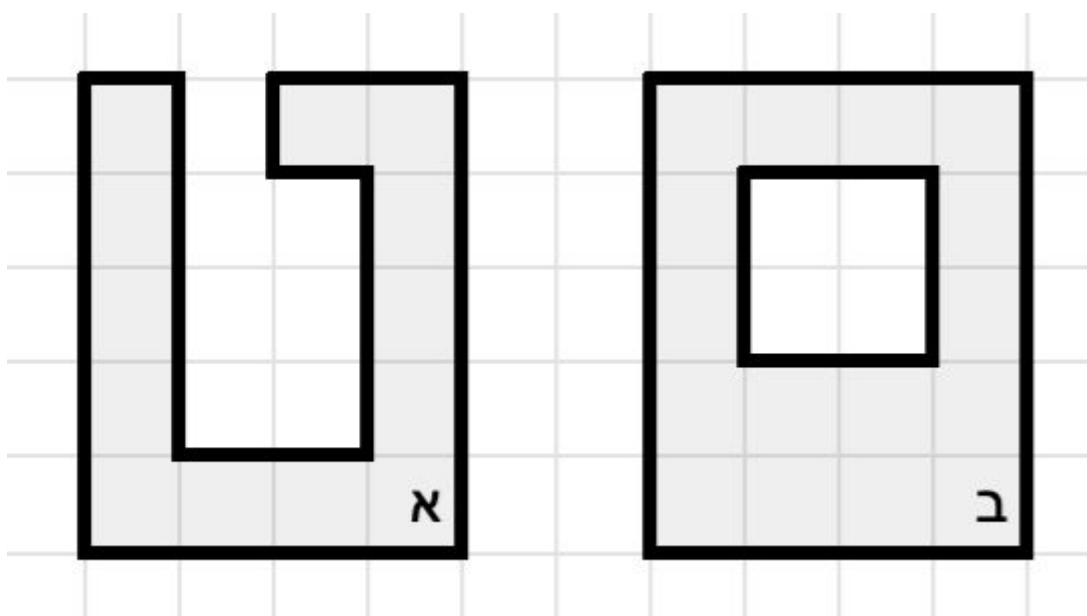
4) למי מהמצולעים יש יותר צלעות? \_\_\_\_\_

5) מה היקפו של מצולע א'? \_\_\_\_\_

6) מה היקפו של מצולע ב'? \_\_\_\_\_

7) למי מהמצולעים יש יותר קודקודים? \_\_\_\_\_

8) סמנו בכל אחד מהמצולעים שתי זוגות של צלעות מקבילות



1) האם לאחד המצולעים שטח גדול יותר? \_\_\_\_\_

בהנחה ששטחה של כל משבצת היא 1 סמ"ר

2) מה שטחו של מצולע א'? \_\_\_\_\_

3) מה שטחו של מצולע ב'? \_\_\_\_\_

4) למי מהמצולעים יש יותר צלעות? \_\_\_\_\_

5) מה היקפו של מצולע א'? \_\_\_\_\_

6) מה היקפו של מצולע ב'? \_\_\_\_\_

7) למי מהמצולעים יש יותר קודקודים? \_\_\_\_\_

8) סמנו בכל אחד מהמצולעים שתי זוגות של צלעות מקבילות