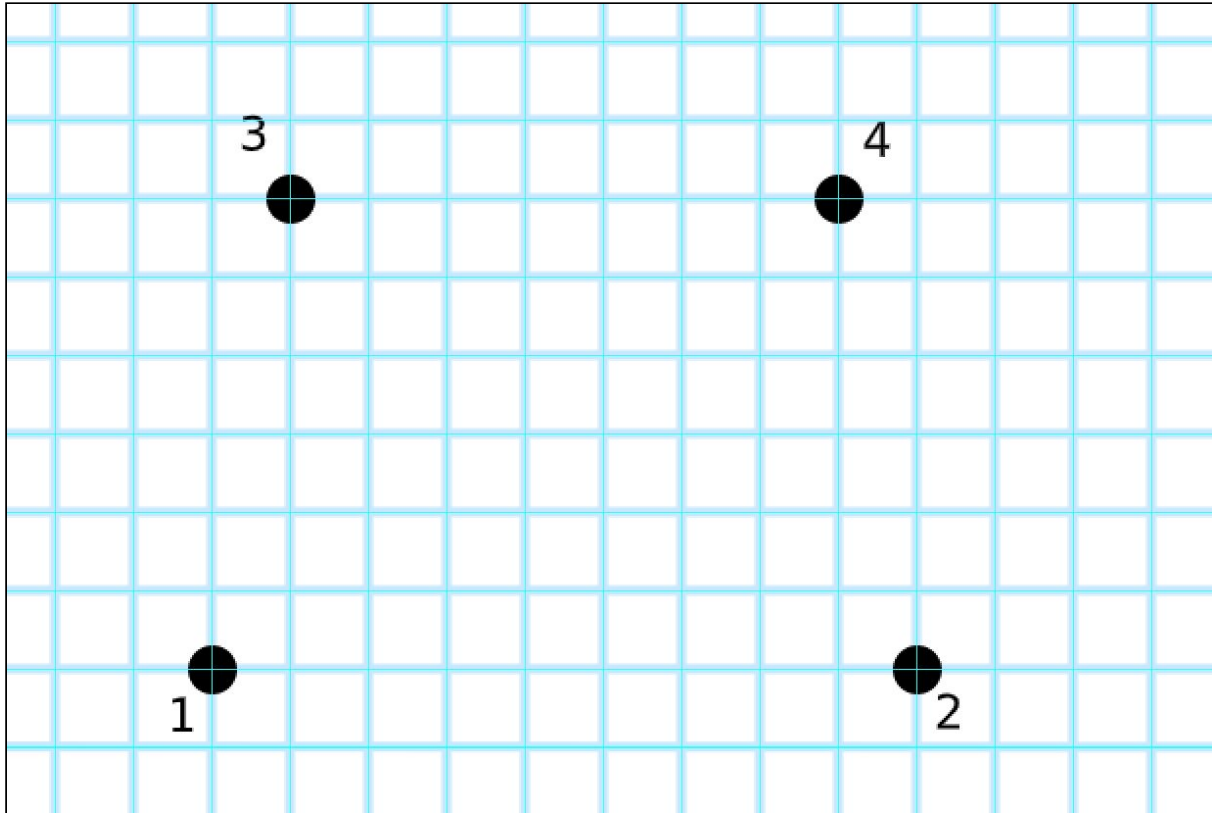




מצולעים ואלכסונים:



(1) ציירו ישרים בין כל הקודקודים וקבלו מצולע

(2) מה שם המצולע שהתקבל? _____

(3) ציירו לפחות 2 אלכסונים למצולע

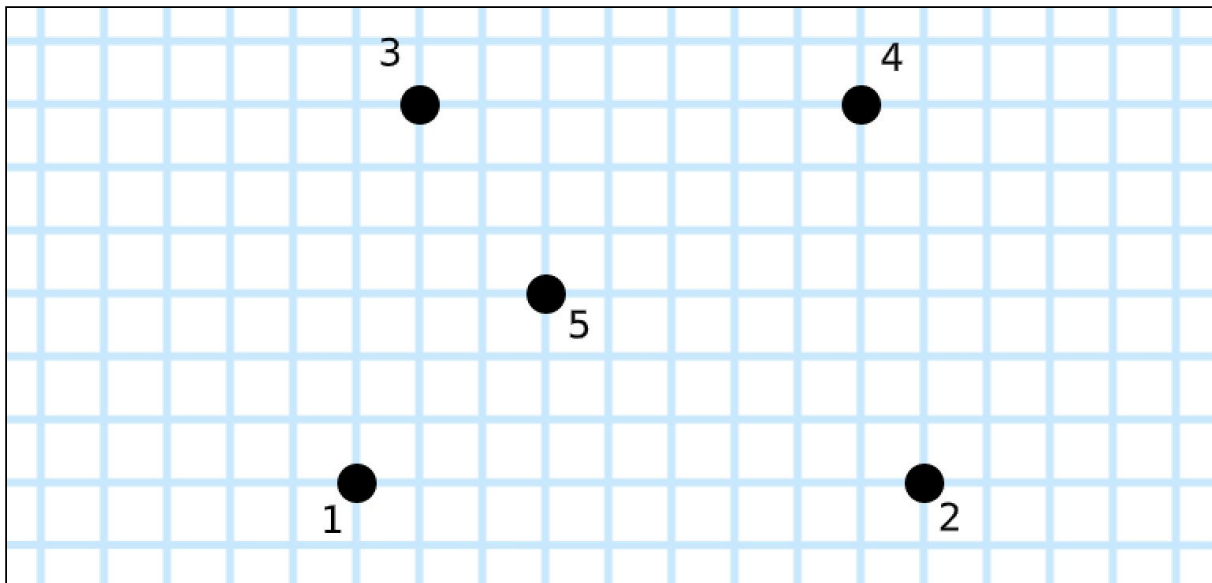
(4) תנו שם לזוויות במצולע

_____ זווית 1 ○

_____ זווית 2 ○

_____ זווית 3 ○

_____ זווית 4 ○



(1) ציירו ישרים בין כל הקודקודים וקבלו מצולע

(2) מה שם המצולע שהתקבל? _____

(3) ציירו לפחות 2 אלכסונים למצולע, כשאחד האלכסונים חיצוני למצולע

(4) תנו שם לזוויות במצולע

_____ זווית 1 ○

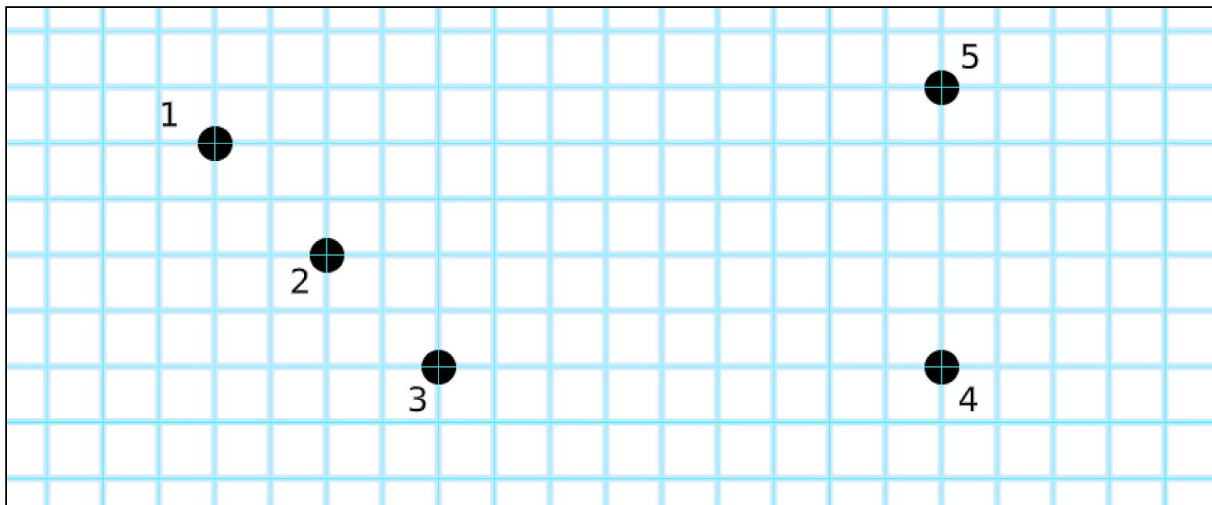
_____ זווית 2 ○

_____ זווית 3 ○

_____ זווית 4 ○

_____ זווית 5 ○

(5) סמנו במצולע שתי צלעות מקבילות



(1) ציירו ישרים בין כל הקודקודים וקבלו מצולע

(2) מה שם המצולע שהתקבל? _____

(3) ציירו לפחות 2 אלכסונים למצולע

(4) תנו שם לזוויות במצולע

_____ זווית 1 ○

_____ זווית 2 ○

_____ זווית 3 ○

_____ זווית 4 ○

_____ זווית 5 ○

(5) האם ישנן צלעות מקבילות במצולע, אם כן סמנו אותן

(6) האם ישנן צלעות מאונכות במצולע, אם כן סמנו אותן