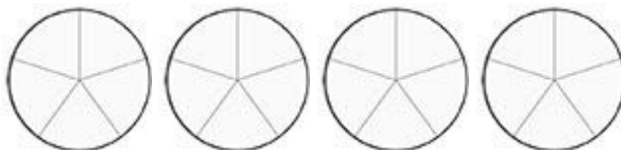




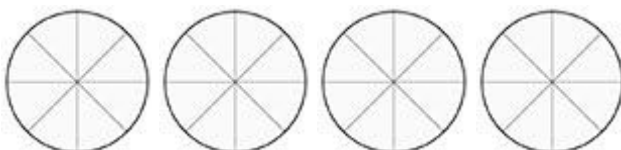
אתגר - שברים מדומים

1. צבעו בכל קבוצת עיגולים את השבר המצוין לצידה
2. במידה והשבר הוא שבר מדומה כתבו אותו גם כשבר מעורב

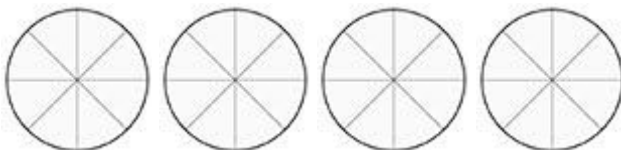
$$\frac{24}{10}$$



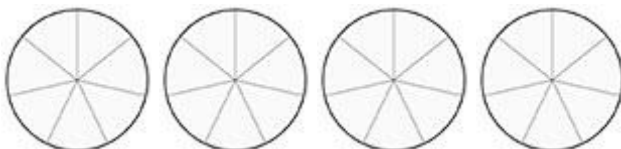
$$\frac{26}{12}$$



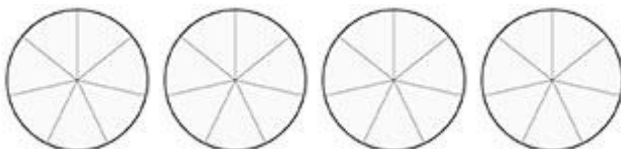
$$\frac{11}{4}$$



$$\frac{18}{14}$$



$$\frac{24}{14}$$



$$\frac{33}{5}$$

