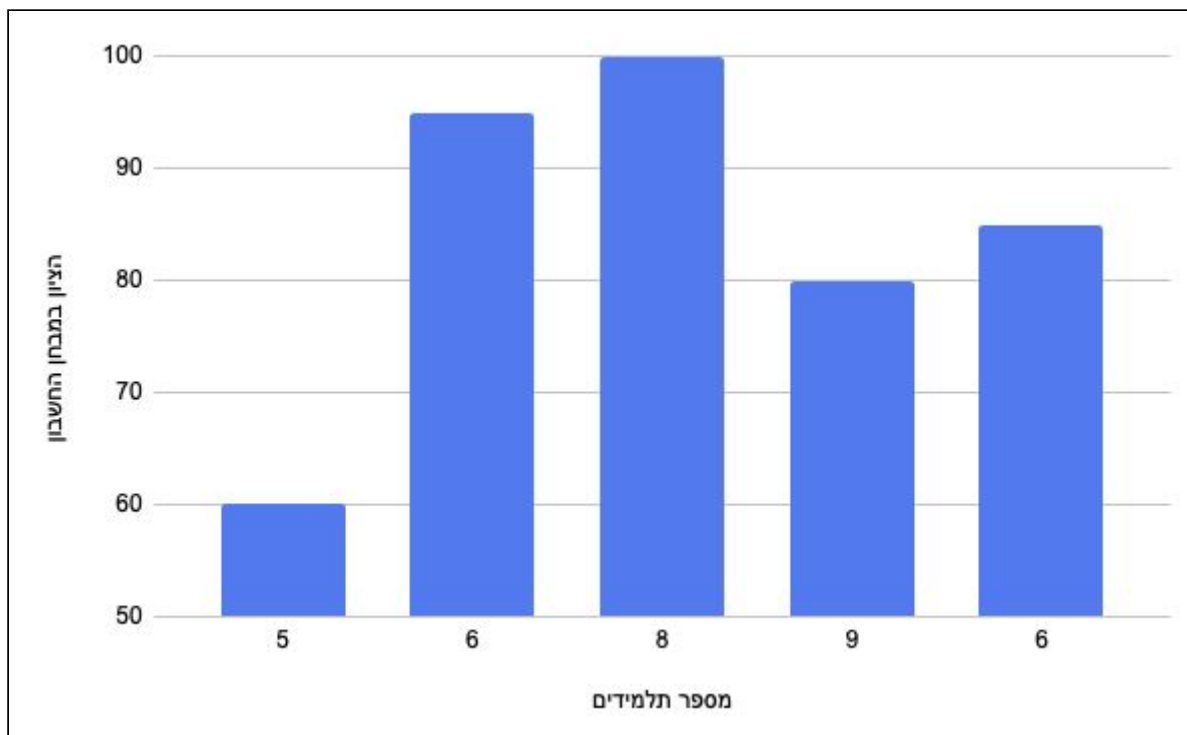




דיאגרמות חלק שני :

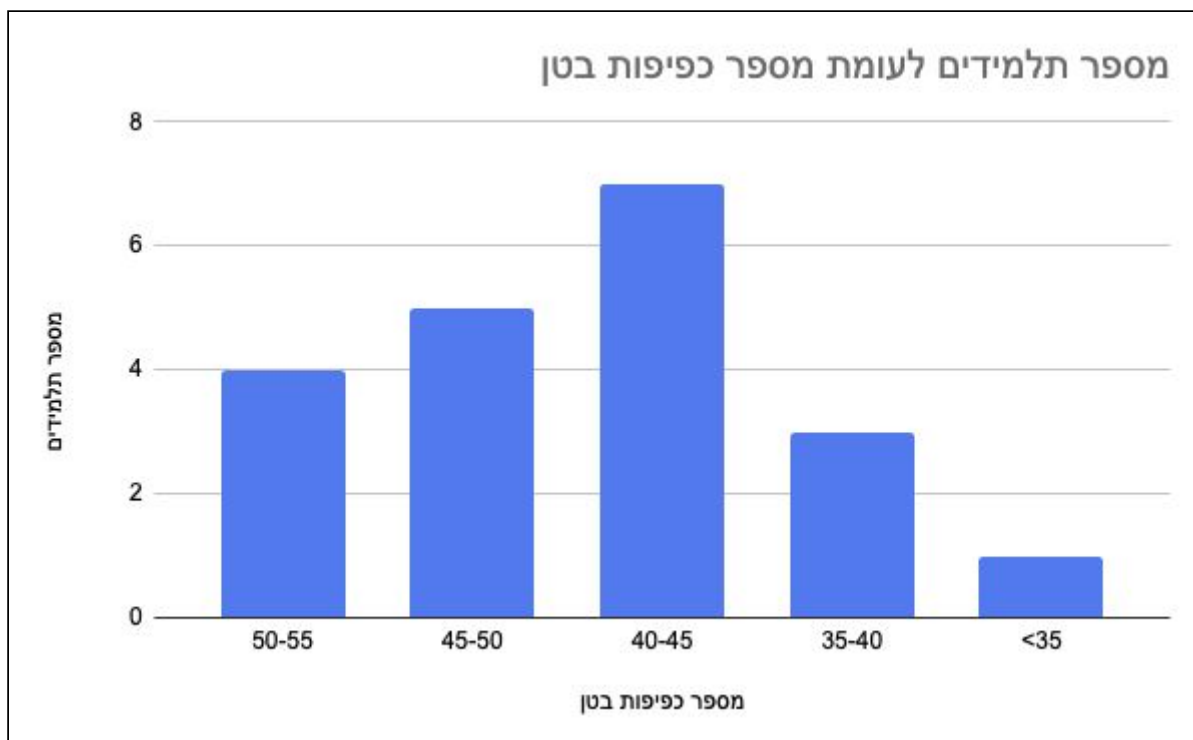


התרשים למעלה מתאר את חלוקת הציונים במבחן האחרון בחשבון בכיתת המתמטיקאים של אוסקר ספוג. ענו על השאלות הבאות בהתאם לתרשים:

- 1) מה הוא הציון הגבוה ביותר? _____
- 2) מה הוא הציון הנמוך ביותר? _____
- 3) כמה תלמידים קיבלו ציון גבוה מ-90? _____
- 4) אתה הציון 80 קיבלו _____ תלמידים
- 5) כל מי שקיבל ציון נמוך מ-85 צריך עבור את הבחינה שוב, כמה תלמידים נמחנו בשנית? _____
- 6) כמה תלמידים לומדים בכיתה המתמטיקאים של אוסקר ספוג? _____



7) האם אפשר לומר ש 7 תלמידים קיבלו את הציון 85 בדיוק? _____



בשיעור הספורט האחרון עבור הילדים בוחן כפיפות בטן בדקה. ענו על השאלות הבאות בהתבסס על התוצאות ששלח המורה אלכסי לצילי מנהלת בית הספר.

1) האם זה אפשרי ש 10 ילדים ביצעו 42 חזרות בדקה? _____

2) תלמידים שביצעו 40 חזרות או פחות יצטרכו לעבור את הבוחן בשנית אחרי

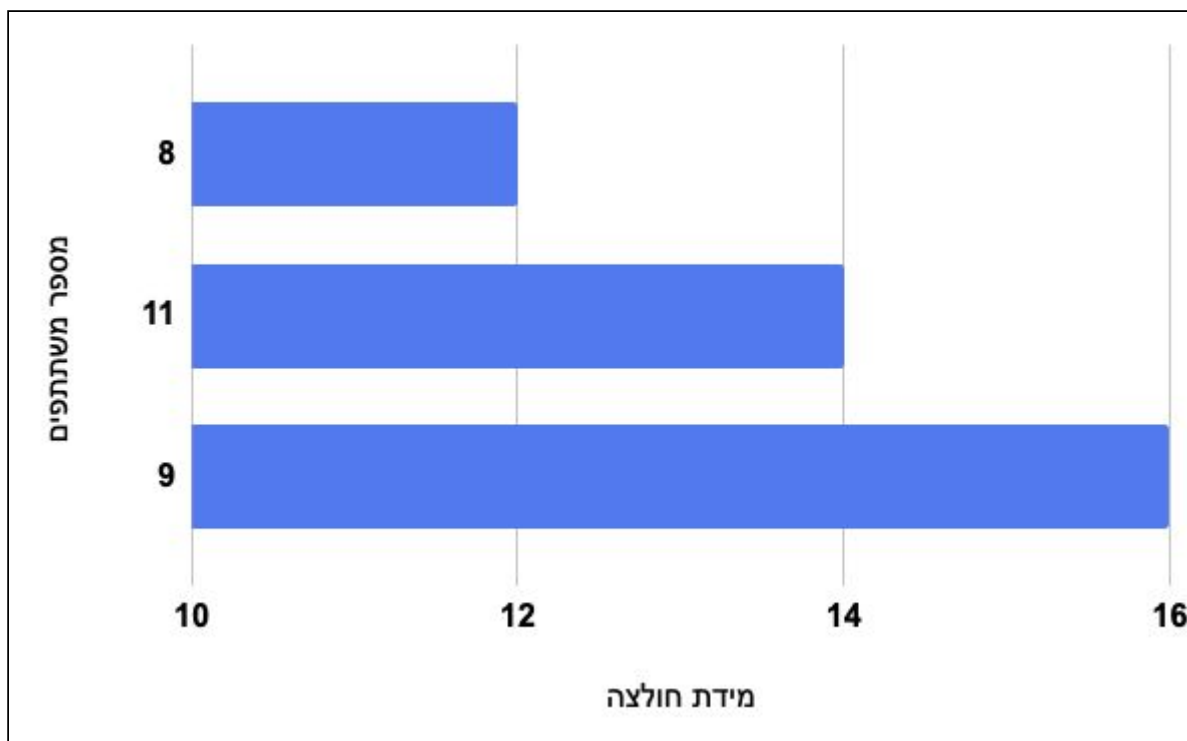
שעות הלימודים, כמה תלמידים יבחנו שוב? _____

3) כמה תלמידים ביצעו 45 חזרות או יותר? _____

4) לאיזו קבוצה השתייכו מספר התלמידים הקטן ביותר? _____

5) כמה תלמידים לומדים בכיתה? _____

6) כמה תלמידים ביצעו 35 חזרות או יותר? _____



מנהלת קיטנת הרקדנים והרקדניות הזמינה חולצות במידות שונות. את הזמנת

החולצות שלחה בטבלה למעלה:

- 1) כמה ילדים לובשים חולצה במידה 10? _____
- 2) האם יש יותר רקדנים בעלי מידת חולצה 14 מאשר מידת חולצה 12? _____
- 3) בכמה גדול יותר מספר החולצות במידה 16 שהוזמנו מאשר חולצות במידה 12? _____
- 4) כמה ילדים ישתתפו בקייטנה? _____
- 5) ידוע שהילדים בעלי מבנה הגוף הגדול יותר ירקדו בשורה האחורית. כמה ילדים ירקדו בשורה האחורית? _____
- 6) אם ידעו שכל הרקדנים הלומדים בכיתות ג' לובשים חולצה מידה 12, בכמה ילדים מדובר? _____