


















## מציאת שבר קטן יותר:

כתבו 3 שברים הקטנים מהשבר המצוין :

שבר שלישי	שבר שני	שבר ראשון	השבר
$\frac{9}{20}$	$\frac{2}{6}$	$\frac{1}{4}$	למשל $\frac{1}{2}$
			$\frac{2}{5}$
			$\frac{2}{9}$
			$\frac{2}{11}$
			$\frac{1}{5}$
			$\frac{2}{7}$



			$\frac{6}{8}$
			$\frac{3}{9}$
			$\frac{5}{5}$
			$\frac{4}{3}$
			$\frac{1}{11}$
			$\frac{3}{8}$
			$\frac{7}{9}$



			$\frac{11}{13}$
			$\frac{3}{7}$
			$\frac{3}{16}$
			$\frac{8}{17}$
			$\frac{5}{14}$
			$\frac{3}{7}$