




## מבחן בחשבון אמצע השנה

ענו על השאלות הבאות:



אילו מהמספרים הבאים נמצאים בטווח שמצויין למעלה?

760 , 611 , 599 , 453 , 501 , 410 , 111

כתבו שלושה שונים מספרים שנמצאים בטווח ומתחלקים ב10:

\_\_\_\_\_ , \_\_\_\_\_ , \_\_\_\_\_


פתרו את התרגילים הבאים:

$78+9 =$

$73-45 =$

$61-23 =$

$47+29 =$





ענו על התרגילים מבלי לחשב על הדף:

$$120 + 100 + 10 = \underline{\hspace{2cm}}$$

$$50 + 100 + 200 = \underline{\hspace{2cm}}$$

$$100 + 100 + 150 = \underline{\hspace{2cm}}$$

ענו על השאלות הבאות :

$$\underline{\hspace{1cm}} \times 5 = 5 \times 8$$

$$23 + \underline{\hspace{1cm}} = 17 + 23$$

$$120 - \underline{\hspace{1cm}} = 120 - 13$$

$$18 \times 5 = \underline{\hspace{1cm}} \times 5$$

$$20 \times 4 = \underline{\hspace{1cm}} \times 2$$

$$12 - \underline{\hspace{1cm}} = \underline{\hspace{1cm}} - 7$$

כתבו תרגיל מתאים לשאלות הבאות:

$$\underline{\hspace{2cm}} \quad 20 + 20 + 20 = ?$$

$$\underline{\hspace{2cm}} \quad 34 + 34 + 34 + 34 + 34 = ?$$

$$\underline{\hspace{2cm}} \quad 20 + 20 + 20 + 10 = ?$$





**כתבו את המספרים במילים:**

\_\_\_\_\_ 4,566  
\_\_\_\_\_ 1,301  
\_\_\_\_\_ 209

**כתבו את המספרים הבאים:**

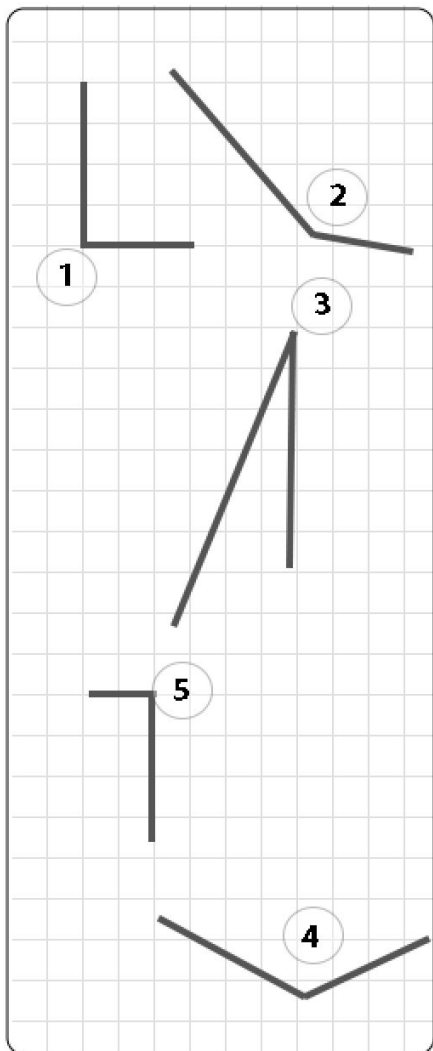
שלושת אלפים מאה ושש \_\_\_\_\_  
שמונה מאות עשרים ושתיים \_\_\_\_\_  
ארבעת אלפים תשעים שלוש \_\_\_\_\_

**בסדרות הבאות הפרשים קבועים בין מספר למספר:**

120 , 125 , \_\_\_\_\_ , \_\_\_\_\_ , \_\_\_\_\_

300 , 315 , \_\_\_\_\_ , \_\_\_\_\_ , \_\_\_\_\_

100 , \_\_\_\_\_ , 130 , \_\_\_\_\_ , \_\_\_\_\_



**השלימו:**


זווית 1 היא זווית \_\_\_\_\_

זווית 2 היא זווית \_\_\_\_\_

זווית 3 היא זווית \_\_\_\_\_

זווית 4 היא זווית \_\_\_\_\_

זווית 5 היא זווית \_\_\_\_\_



**שרטטו :**  
זווית חדה אחת

שתי זוויות כהות

זווית ישרה אחת



ירון חילק את אוסף הגולות שלו ל 4 חלקים שווים. בכל חלק 10 גולות. כמה גולות לירון?

תרגיל במילים: \_\_\_\_\_  
תשובה: \_\_\_\_\_

סיוון שיתפה את חברותיה בחטיף שקנתה, 5 חברות קיבלו 5 חטיפים כל אחת. כמה חטיפים היו לסיוון?

תרגיל במילים: \_\_\_\_\_  
תשובה: \_\_\_\_\_

יובל קופצת לרוחק. היא קופצת 4 מטרים בכל קפיצה, כמה מטרים תעבור אחרי 8 קפיצות?

תרגיל במילים: \_\_\_\_\_  
תשובה: \_\_\_\_\_

אחרי אימונים והתמדה, יובל הגדילה את המרחק שהיא עוברת בכל קפיצה ל 5 מטרים. כמה המרחק שתעבור יובל אחרי 6 קפיצות?

תרגיל במילים: \_\_\_\_\_  
תשובה: \_\_\_\_\_

**בהצלחה!**