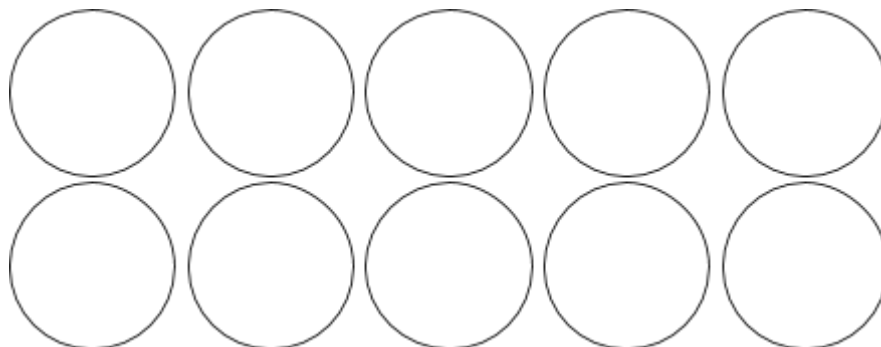




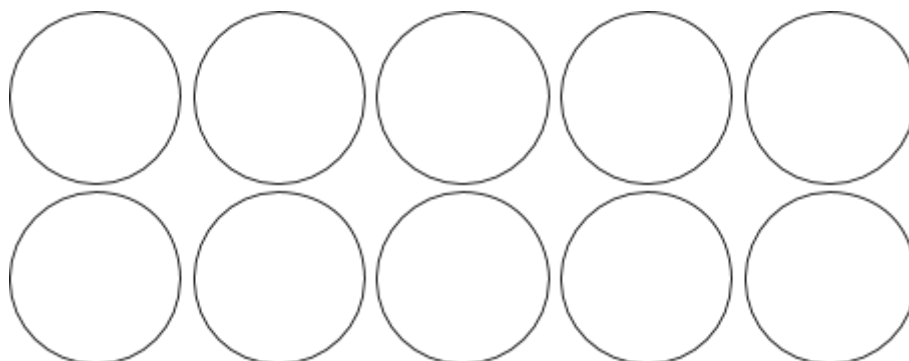
תרגול כתיבת שאלות כפל מורכבות

ציירו בעיגולים הבאים נקודות המתארות את התרגילים הבאים, לא חייבים להשתמש בכל העיגולים:

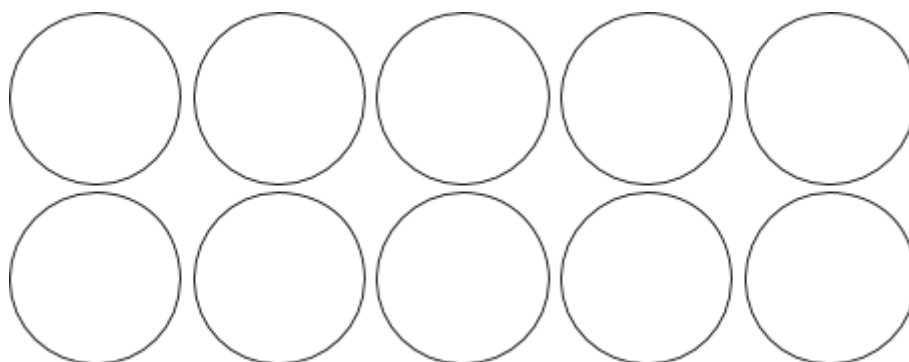
$$3 \times 5 + 2 \times 8 = \underline{\hspace{2cm}}$$



$$4 \times 5 + 6 \times 8 = \underline{\hspace{2cm}}$$



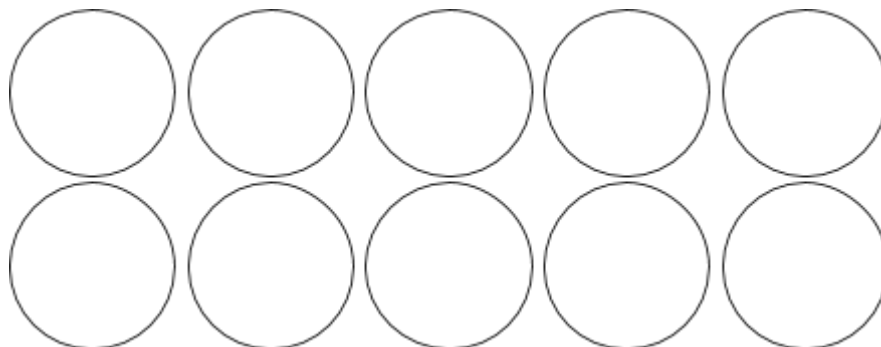
$$3 \times 7 + 6 \times 5 = \underline{\hspace{2cm}}$$



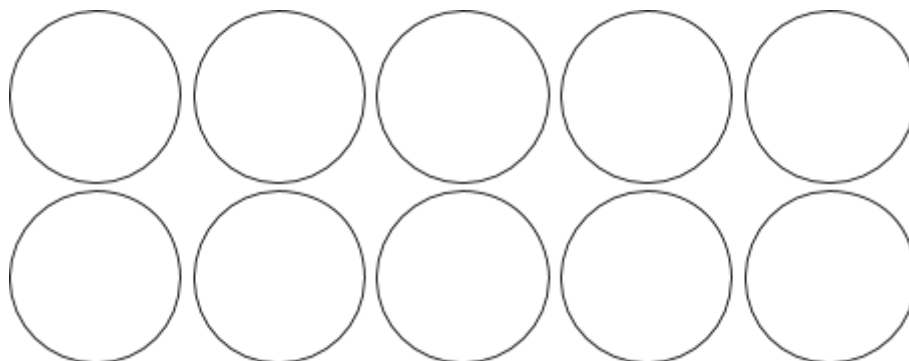


אתגר בונים:

$$8 \times 2 + 4 \times 3 = \underline{\quad}$$



$$9 \times 4 + 8 \times 5 = \underline{\quad}$$



$$8 \times 4 + 7 \times 2 + 9 = \underline{\quad}$$

