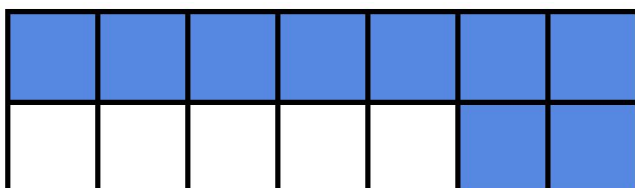




דף עבודה בחשבון לכיתה ו - דף 3

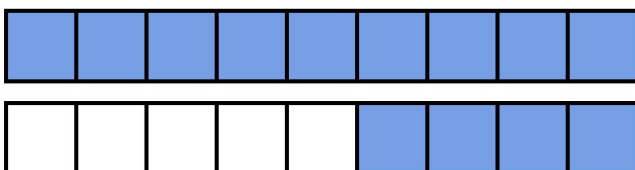
כתבו 3 תרגילי חיבור שברים שונים המתארים את החלק הצבוע:



$$\underline{\quad} + \underline{\quad} + \underline{\quad} =$$

$$\underline{\quad} + \underline{\quad} - \underline{\quad} =$$

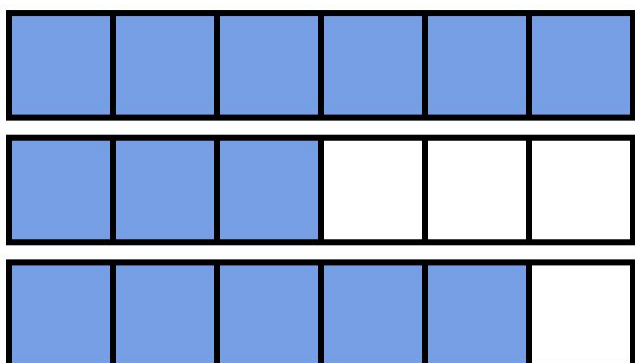
$$\underline{\quad} - \underline{\quad} + \underline{\quad} =$$



$$\underline{\quad} + \underline{\quad} + \underline{\quad} =$$

$$\underline{\quad} + \underline{\quad} - \underline{\quad} =$$

$$\underline{\quad} - \underline{\quad} - \underline{\quad} =$$



$$\underline{\quad} + \underline{\quad} + \underline{\quad} =$$

$$\underline{\quad} + \underline{\quad} + \underline{\quad} =$$

$$\underline{\quad} + \underline{\quad} - \underline{\quad} =$$

שאלה:

שטח בית הספר בעל צורה מלבנית, אורך הצלע הקצרה הוא 11 מטרים, אורך הצלע הארוכה גדול פי 3 מהקצרה.

מה היקף בית הספר? _____

מה שטחו של בית הספר? _____

סביב בית הספר שותלים פרחים. כל מטר פרחים עולה 5 שקלים. כמה יעלו כל

הפרחים הדרושים להקפת בית הספר? _____

המשתלה בה קנו את הפרחים נתנה הנחה של 20% ממחיר הפרחים. כמה יעלו כל

הפרחים כעת? _____