









## כיתה ב' - כמה דיירים בכל קומה (עד 10)?

מספר דיירים בכל קומה רשום בחלונות. חשבו את מספר הדיירים בכל קומה.  
 אתגר - כתבו תרגיל וחשבו כמה דיירים גרים בכל בניין?  
 אתגר - כמה דיירים גרים בכל שלושת הבניינים ביחד?

$1+5=$ ___ $7+3=$ ___ $2+6=$ ___ 	$4+5=$ ___ $5+3=$ ___ $2+3=$ ___ 	$4+3=$ ___ $2+5=$ ___ $3+1=$ ___ 
---	---	---

$5+1=$ ___ $8+1=$ ___ $8+2=$ ___ 	$2+2=$ ___ $1+3=$ ___ $4+3=$ ___ 	$3+3=$ ___ $2+6=$ ___ $5+4=$ ___ 
---	---	---