




## כיתה ב' - כמה דיירים בכל קומה (עד 100)?

מספר דיירים בכל קומה רשום בחלונות. חשבו את מספר הדיירים בכל קומה.  
 אתגר - כתבו תרגיל וחשבו כמה דיירים גרים בכל בניין?  
 אתגר - כמה דיירים גרים בכל שלושת הבניינים ביחד?

$52 + 44 = \underline{\quad}$

$57 + 35 = \underline{\quad}$


$29 + 67 = \underline{\quad}$



$46 + 25 = \underline{\quad}$

$35 + 47 = \underline{\quad}$


$56 + 29 = \underline{\quad}$



$32 + 49 = \underline{\quad}$

$48 + 39 = \underline{\quad}$


$43 + 46 = \underline{\quad}$



$72 + 19 = \underline{\quad}$

$67 + 24 = \underline{\quad}$


$59 + 35 = \underline{\quad}$



$66 + 27 = \underline{\quad}$

$75 + 23 = \underline{\quad}$

$45 + 51 = \underline{\quad}$



$62 + 29 = \underline{\quad}$

$73 + 19 = \underline{\quad}$

$53 + 35 = \underline{\quad}$

