









כיתה ב' - כמה דיירים בכל קומה (עד 20)?

מספר דיירים בכל קומה רשום בחלונות. חשבו את מספר הדיירים בכל קומה.
 אתגר - כתבו תרגיל וחשבו כמה דיירים גרים בכל בניין?
 אתגר - כמה דיירים גרים בכל שלושת הבניינים ביחד?

$8+6=$ ___ $7+9=$ ___ $5+7=$ ___ 	$8+4=$ ___ $9+3=$ ___ $7+9=$ ___ 	$7+6=$ ___ $5+6=$ ___ $9+4=$ ___ 
-------------------------------------------------------------------------------------------------------------------------------	-------------------------------------------------------------------------------------------------------------------------------	---------------------------------------------------------------------------------------------------------------------------------

$8+9=$ ___ $9+4=$ ___ $8+7=$ ___ 	$9+7=$ ___ $8+7=$ ___ $4+7=$ ___ 	$5+7=$ ___ $7+3=$ ___ $5+5=$ ___ 
-------------------------------------------------------------------------------------------------------------------------------	-------------------------------------------------------------------------------------------------------------------------------	---------------------------------------------------------------------------------------------------------------------------------