



מבחן בחשבון לכיתה ב'

1. כתבו במילים את המספרים הבאים:

22 _____

87 _____

2. כתבו בספרות את המספרים הבאים:

חמישים ושתיים _____

שלוש עשרה _____

ארבעים ואחת _____

3. כתבו שלושה מספרים דו ספרתיים ש:

גדולים מ34 וקטנים מ46 _____

קטנים מ50 ובהם ספרת העשרות היא 2 _____

גדולים מ78 ובהם ספרת האחדות היא 5 _____

4. המשיכו את סדרות המספרים הבאות:

18, 20, _____, _____, _____

31, 36, _____, _____, _____

43, _____, _____, 53



5. נתונות הספרות 1, 6, 9 בעזרתן:

בנו 4 מספרים דו ספרתיים שונים

_____ , _____ , _____ , _____

סדרו אותם בסדר עולה

_____ , _____ , _____ , _____

6. השלימו את הספרות החסרות בשיוויונים הבאים:

$$3_ > 34$$

$$_7 < 19$$

7. הקיפו מספרים בהם ספרת העשרות היא 7:

27 , 78 , 87 , 74 , 47

8. הקיפו מספרים בהם ספרת האחדות היא 8:


88 , 87 , 18 , 68 , 85



9. ילדי הכיתה רשמו מספרים בדילוגים של 4, הסדרה התחילה במספר 50, האם המספר 62 יכול להיות חלק מהסדרה? _____

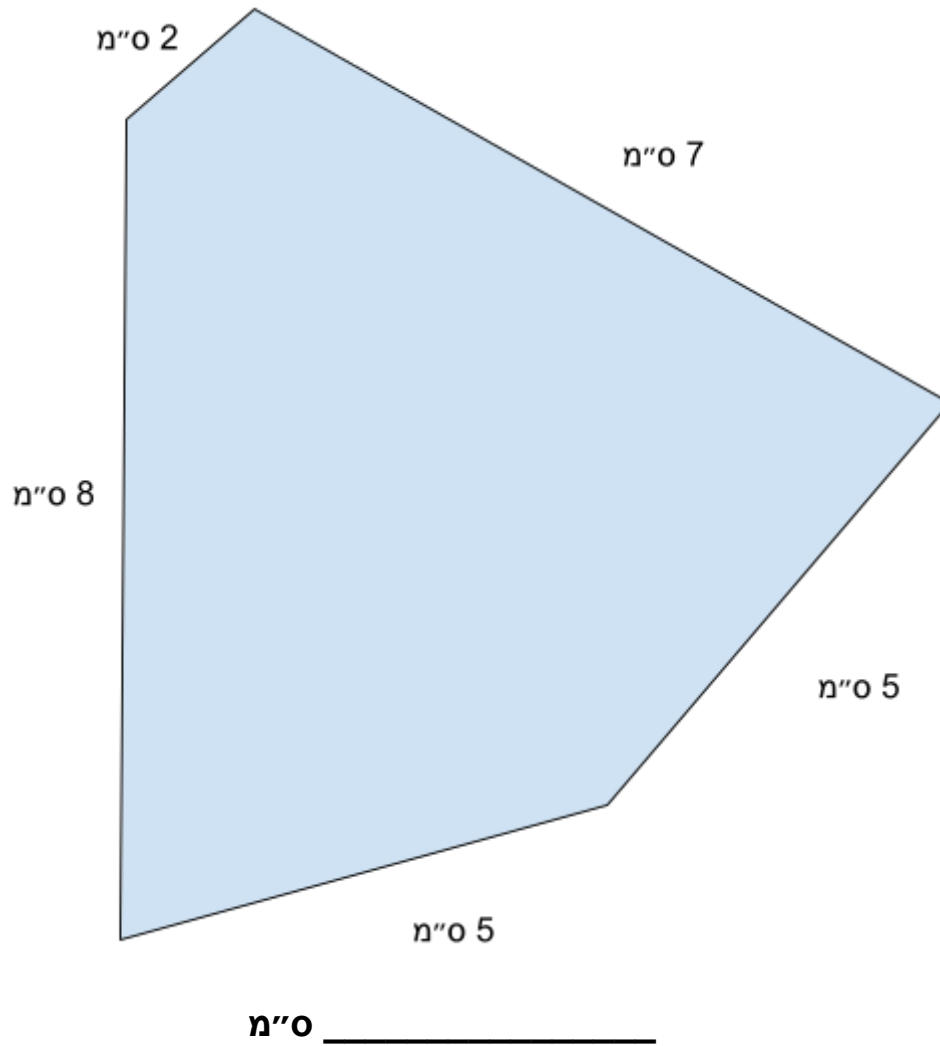
10. ילדי הכיתה רשמו גם סדרה המתחילה במספר 32 והמשיכו בדילוגים של 10 בין מספר למספר. האם המספר 92 יכול להיכלל בסדרה? _____

11. מה שם המצולע הבא:



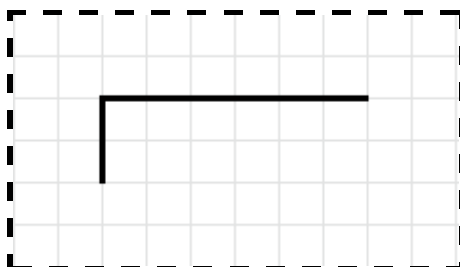


12. מה היקף הצורה הבאה:

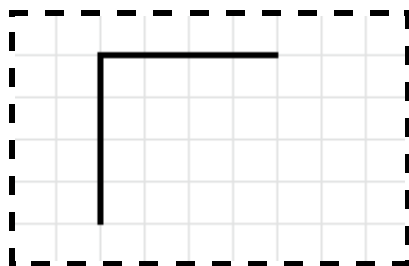




13. השלימו את הצורה הבאה למשולש:



14. השלימו את הצורה הבאה למלבן:



15. בארגז המחברות 27 מחברות, 9 מחברות חשבון והיתר מחברות

חלקות. כמה ספרי ילדים בארגז?

תרגיל: _____

תשובה: _____

16. לאורן 23 סוכריות, במהלך היום אכל 7 מתוכן. כמה סוכריות נותרו

לאורן?

תרגיל: _____

תשובה: _____