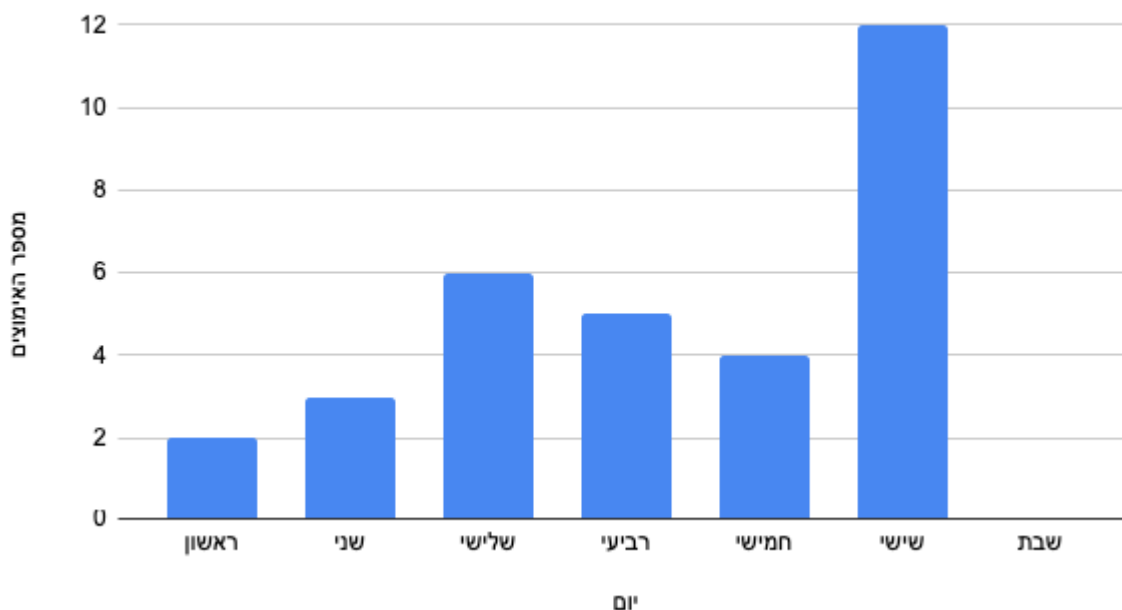




דיאגרמות חלק 2

הדיאגרמה הבאה מתארת את מספר בעלי החיים שאומצו בכל יום בשבוע החולף בכלביית תנו לזנב לכשכש, ענו על השאלות הבאות:

מספר בעלי החיים שאומצו השבוע לפי יום



באיזה יום בשבוע לא אומצו בעלי חיים בכלל? _____

באיזה יום בשבוע אומצו מספר בעלי החיים הגבוה ביותר? _____

כמה בעלי חיים ומצו במהלך השבוע האחרון? _____

ערכת אימוץ מלאה עולה 15 שקלים, כמה כסף נאסף ממכירת ערכות אימוץ ביום שלישי? _____

סמנו את התשובה הנכונה

נכון / לא נכון ביום רביעי אומצו יותר בעלי חיים מאשר ביום שלישי? נמקו _____

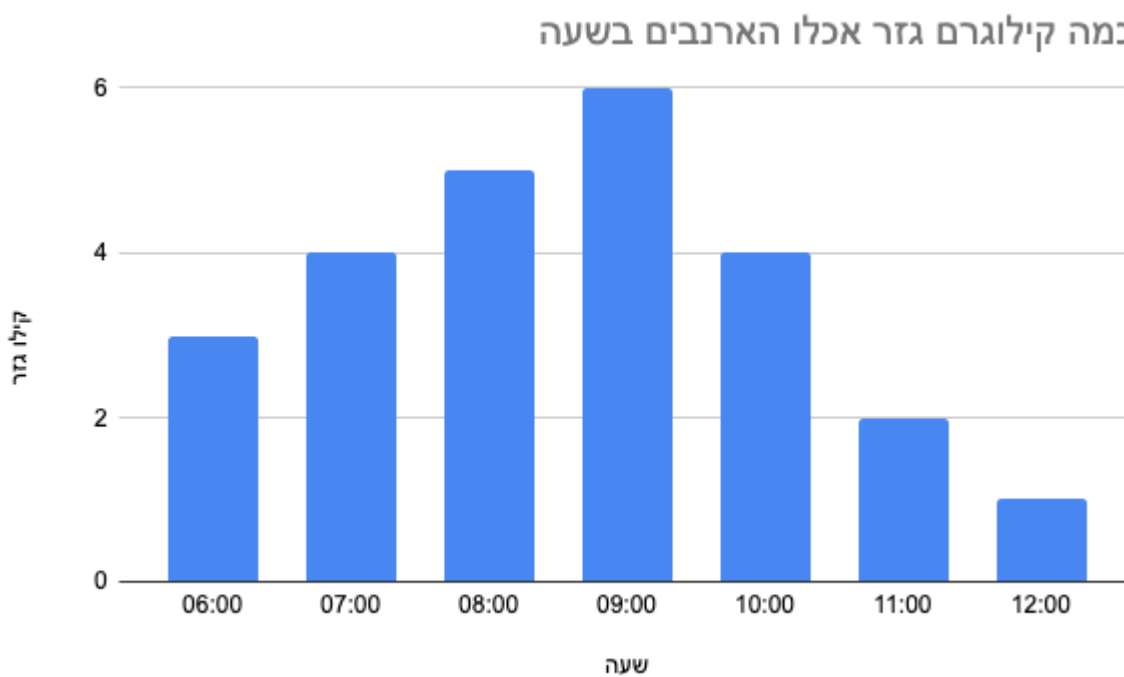
נכון / לא נכון ביום שישי אומצו פחות בעלי חיים מאשר בכל שאר ימות השבוע ביחד? נמקו _____

נכון / לא נכון ביום חמישי אומצו יותר בעלי חיים מאשר ביום ראשון ושני ביחד? נמקו _____

נכון / לא נכון יכול להיות שהכלביה הייתה סגורה בשבת? נמקו _____



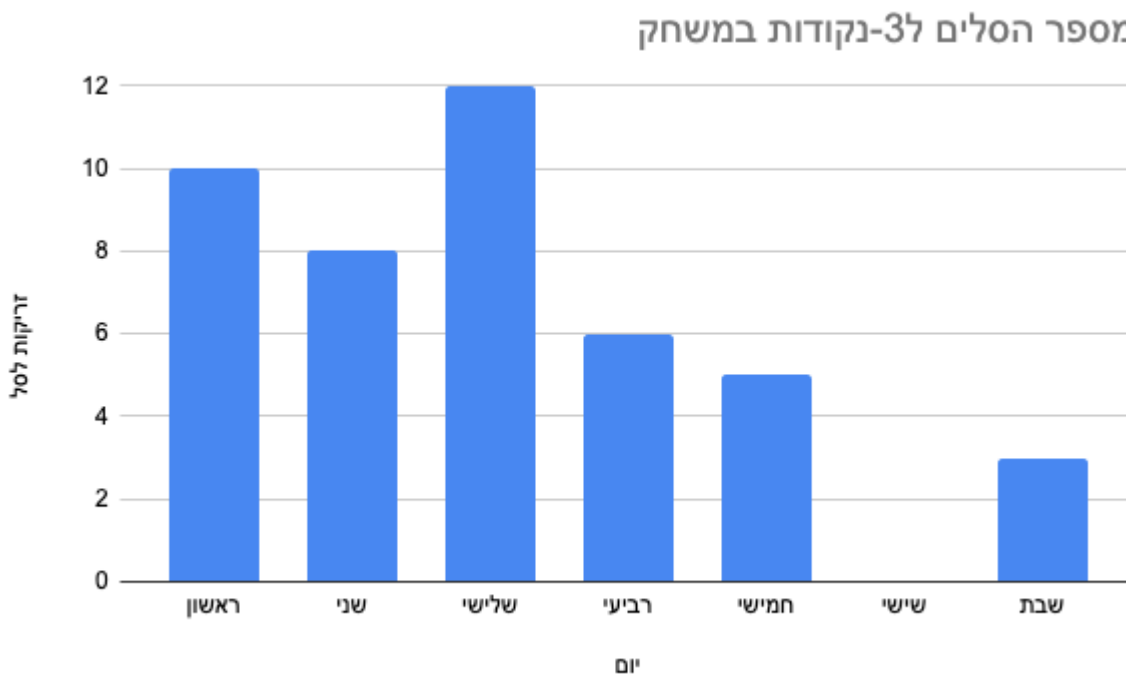
לימור 6 ארנבים המחסלים בכל יום גזרים רבים!
 הדיאגרמה הבאה מתארת כמה קילוגרם גזר אכלו הארנבים של לימור בכל שעה.
 ענו על השאלות הבאות:



באיזו שעה לדעתכם הארנבים של לימור מקבלים את הארוחה הראשונה?
 האם בשעה 11:00 הארנבים רעבים יותר מאשר בשעה 06:00?
 אם קילוגרם גזר, עולה 7 שקלים, כמה תשלם לימור עבורה הגזרים שאוכלים הארנבים בשעה:
 11:00
 07:00
 באיזו שעה אוכלים הארנבים את כמות הגזר הגדולה ביותר?
 האם אפשר לומר שהארנבים אוכלים פחות מ 28 קילוגרם גזר ביום?
 אם כל אחד מהארנבים אוכל כמות שווה של גזרים כמו חבריו, מה משקל הגזרים שאוכל כל ארנב
 בשעה 09:00?
 בשעה 06:00?
 נכון / לא נכון בשעות 06:00 ו 07:00 הארנבים אוכלים יותר גזרים מאשר בשעה 09:00?
 נכון / לא אפשר לומר שהארנבים פחות רעבים אחרי השעה 09:00?



קבוצות השועלות של בית אושר, משתתפות במחנה כדורסל בחופש הגדול. התרשים הבאה מתאר את מספר הסלים ל-3 נקודות שקלעה הקבוצה בכל יום (בכל יום יש משחק אחד!)



באיזה יום קלעו השחקניות את מספר הסלים ל-3 הנמוך ביותר? _____

באיזה יום קלעו השחקניות את מספר הסלים ל-3 הגבוה ביותר? _____

בכל משחק שבו קלעו השחקניות יותר מ-7 סלים הם ניצחו במשחק.

כמה משחקים ניצחה הקבוצה? _____

כמה משחקים הפסידה הקבוצה? _____

נכון/לא נכון ביום חמישי קלעו השחקניות יותר סלים מ-3 מאשר ביום רביעי? _____

נכון/לא נכון השחקניות קלעו בשלושה משחקים יותר מ-9 סלים ל-3 נקודות? _____

מכון/לא נכון השחקניות קלעו בכל יום מספר סלים נמוך יותר מאשר ביום הקודם? _____